

تو عرب

منتدى تو عرب التعليمي

[www.arabia2.com/vb](http://www.arabia2.com/vb)

موقع تو عرب التعليمي

[www.arabia2.com/vb](http://www.arabia2.com/vb)

٧- ضع علامة تحت الإجابة الصحيحة في أ و ب:

أ- يتحكم إقليم المغرب العربي بممر مائي مهم هو:

ب- أقرب كواكب المجموعة الشمسية إلى الشمس هو:

ج- السبب العواصم العربية الآتية إلى دولها:

د- ضع إشارة (✓) إلى معنى العبارة الصحيحة وإشارة (x) إلى معنى العبارة المغلوطة فيما يأتي / درجة واحدة /

٨- ضع علامة تحت الإجابة الصحيحة:

١- الغاز المتطلق في عملية التركيب العضوي:

٢- يقوم حمض كلور الماء في عصارة المعدة بمقاومة جميع العوامل المعرصة وهو نوع من المضادة:

٣- تسمى الحادثة التي يقع فيها ظل القمر على بقعة من الأرض فيحجب قرص الشمس:

٤- لديك السلسلة الغذائية الآتية: النبات الأخضر ————— الحمار ————— العنكبوت ————— الخفاش

أ- منتج. ب- مستهلك أولي. ج- مستهلك ثانوي. د- مفترس.

٩- لديك الجدول الآتي الذي يبين دورة زراعة القمح الشتوية:

| قسم الأرض المزروعة    | السنة الأولى | السنة الثانية |
|-----------------------|--------------|---------------|
| نصف الأرض الأول يزرع  | قمحاً        | فولاً         |
| نصف الأرض الثاني يزرع | فولاً        | قمحاً         |

أ- ما المحصول الرئيسي في هذه الدورة؟ ولماذا يقوم الفلاح بزراعة الفول بعد زراعة القمح عادة؟

ب- لا تتم زراعة النباتات في التربة الرملية وذلك لسببين، ما هما؟ وكيف يتم استصلاح التربة الرملية؟

ج- يضيف الفلاح الأسمدة إلى التربة الزراعية لرفع قدرتها الإنتاجية. ما نوعا الأسمدة؟

د- من الممارات الحديثة في الزراعة عدم استخدام التربة وتسمى الزراعة المائية. كيف يتم ذلك؟

١٠- ضع علامة (✓) أمام الإجابة الصحيحة لكل من يأتي:  
(أ) إحدى المواد الآتية تعد جسماً بسيطاً:

- (أ) ملح الطعام ☒ (ب) غاز الهيدروجين ☐  
(ج) غاز ثاني أكسيد الكبريت ☐ (د) ماء البحر ☐

(٢٧) يفصل مسحوق النحل عن الماء في خليط لهما باستخدام:

- (أ) المغناطيس ☐ (ب) محلول عباد الشمس ☐ (ج) ورقة الترشيح ☐ (د) قمع الفصل ☐  
(٢٨) الزمن الذي يستغرقه الجسم المهتز لإكمال دورة واحدة يسمى:

- (أ) التواتر ☐ (ب) الدور ☐ (ج) الدبسل ☐ (د) الهرتز ☐

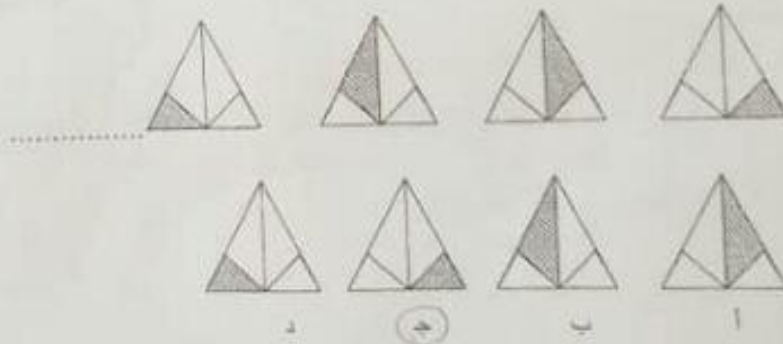
(٢٩) إذا كانت سرعة انتشار الصوت في الهواء  $340 \text{ م/ث}$  ، فتكون المسافة التي يقطعها الصوت خلال نصف دقيقة مساوية:

- (أ)  $340 \text{ م}$  ☒ (ب)  $680 \text{ م}$  ☐ (ج)  $10200 \text{ م}$  ☐ (د)  $1700 \text{ م}$  ☐

١١- املأ الفراغات الآتية بالكلمات المناسبة:

- أ- الطاقة التي لا تلوث البيئة سواء عند استخراجها أو استعمالها تسمى طاقة .....  
ب- ينتشر الصوت في الهواء ولكنه لا ينتشر في .....  
ج- الجسم الذي يتحرك شاقولياً نحو الأعلى فإن مداه الكاملة .....  
د- عند غمس ورقة عباد الشمس بنفسيه اللون في محلول حمض الكبريت يتقلب لونها إلى اللون .....

١٢- اختر الشكل المناسب لإكمال سلسلة الأشكال في الفراغ المين فيما يأتي:



١٣- املأ الفراغ لتحصل على نمط:

..... ٩٦ ، ٤٨ ، ٢٤ ، ١٢ ، ٦ ، ٣ ، ١

١٤- ضع العدد الصحيح مكان علامة الاستفهام ؟

|    |
|----|
| ١٥ |
| ٢  |

|    |
|----|
| ٧  |
| ١٥ |

|    |
|----|
| ٩  |
| ١٩ |

|    |
|----|
| ١٢ |
| ٢٥ |

الجواب: .....

١٥- اختر الإجابة الصحيحة:

- (١) معنى كلمة استجار:  
(أ) صار جاراً لأحد (ب) ابتعد عن مكانه (ج) طلب الحماية (د) صرخ بصوت عالي  
(٢) إن كلمة يقلد بالنسبة إلى كلمة يسخ مثل كلمة يخرع بالنسبة لكلمة :  
(أ) يدرس (ب) آلة (ج) اختراع (د) يبتكر

الصف السابع

- د - نوع الجمع في كلمة ( كلمات ) الواردة في البيت الخامس، هو:
- جمع مذكر منالم ( ) - جمع مؤنث سالم ( ) - جمع تكسير ( ) - ملحق بجمع المؤنث السالم ( )
- ١ - كتبت ثاء على صورتها في كلمة ( لمعت ) الواردة في البيت الثاني، لأنها:
- ٢ - ثاء الرفع المتحركة ( ) - ثاء التأنيث الساكنة ( ) - من أصل الكلمة ( ) - اتصلت بفعل ثلاثي ( )
- ب - كتبت الهمزة على صورتها في كلمة ( كائن )، لأنها متوسطة:
- سبقت بحرف مفتوح ( ) - حركتها الفتح ( ) - مفتوحة بعد حرف مفتوح ( ) - جاءت في كلمة ثلاثية ( )
- ج - علامة الترقيم المناسبة في نهاية الجملة ( بم اتصفت الممرضة )، هي:
- ١ - ( ) : - ( ) ! - ( ) ؟ - ( ) .
- د - الكتابة الصحيحة لكلمة ( تسير ) بالنسبة إلى المعطر هي:
- تسير ( ) - تسير ( ) - تسير ( ) - تسير ( )

٤ - ها أنت تنتهين لعام دراسي جديد بعد أن أمضيت عطلة حافلة بالنشاط. اكتب ستة أسطر تصف فيها نشاطاً قمت به في عطلة الصيف مبيّناً أثره في نفسك.

---

---

---

---

---

---


---

---

### ٥ - ضع خطاً تحت الإجابة الصحيحة :

- أ - أطلق اسم المومياة في الحضارة المصرية القديمة على:
- الكهنة - النصب التذكارية - الجسد المحنط - تماثيل الموتى
- ب - خاضت قرطاج حروباً مع اليونان والرومان نتيجة التنافس للسيطرة على تجارة:
- البحر الأسود - البحر الأحمر - البحر المتوسط - المحيط الأطلسي
- ج - كتبت الدواوين في مصر قبل الإسلام باللغة:
- العربية - القبطية - اليونانية - الفارسية
- د - اهتم العرب المسلمون بهندسة الري في مصر ل:
- وضع مقاييس لنهر النيل - زيادة الأراضي الزراعية - تحديد قيمة الخراج - تطوير الملاحة النهرية

جاء رسم سلسلة لهم يوضح معتمداً على الأحياء السابقة.



(5)

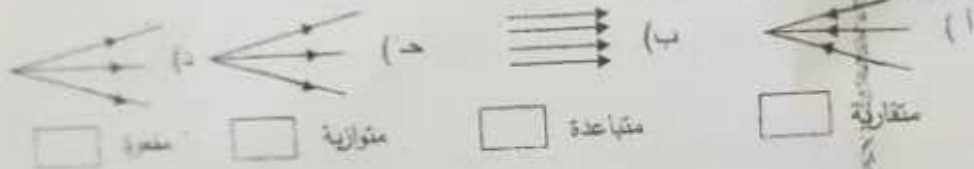
د) ماذا تتوقع أن يحدث في السلسلة السابقة في حال الغواص الأرنجب نتيجة الصيد الجائر ؟

١٠- ضع علامة (✓) أمام الإجابة الصحيحة لكل مما يأتي:

١) يبلغ عدد هزات أرجوحة (١٠) هزات خلال زمن قدره (٤٠ ثانية) فيكون تواتر الأرجوحة :

أ) (٤) هرتز ☐ ب)  $\frac{1}{4}$  هرتز ☐ ج) (٥٠) هرتز ☐ د) (٣٠) هرتز ☐

٢) اسم الحزم الضوئية الموافقة للشكل:



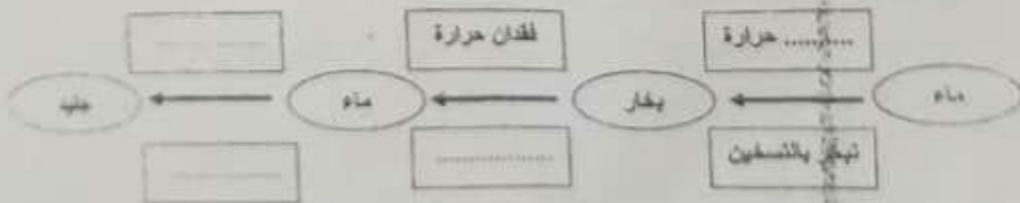
٣) من مكونات الهواء غاز:

أ) الأكسجين ☐ ب) الهيدروجين ☐  
ج) ثنائي أكسيد الكربون ☐ د) الآزوت ☐


٤) أثناء انصهار قطعة جليد فإن درجة حرارتها:

أ) تزداد ☐ ب) تتناقص ثم تزداد ☐ ج) تبقى ثابتة ☐ د) تتناقص ☐

١١- املأ الفراغات بالكلمات المناسبة في الشكل الذي يمثل تحولات المادة :



١٢- اختر الشكل المناسب لإكمال سلسلة الأشكال في الفراغ المبين فيما يأتي :



أ) ب) ج) د)



٢٠١٠/١٠

٦- أ - ضع خطأ تحت الإجابة الصحيحة:

١- نالت سورية استقلالها عام ١٩٤٦م عن الاستعمار:

الفرنسي - البريطاني - الإيطالي - الأمريكي

٢- يركز مفهوم الدولة على:

الأرض والشعب - الأرض والسلطة - السلطة والشعب - الأرض والشعب والسلطة

ب- ضع إشارة (✓) إلى يمين العبارة الصحيحة وإشارة خطأ (X) إلى يمين العبارة الخاطئة فيما يأتي:

■ (✓) تمثل الأسرة الخلوية الاجتماعية الأساسية والضرورية لتكوين شخصية الفرد.

■ (✓) يقتصر دور وسائل الإعلام على الوظيفة الترفيهية.

٧- ضع خطأ تحت الإجابة الصحيحة: / ٤ درجات /

أ- تقع مدينة طرابلس الغرب في: / ١ / درجة واحدة

- تونس - موريتانيا - ليبيا - الجزائر

ب- يصب نهر جوبا في: / ١ / درجة واحدة

- المحيط الأطلسي - البحر الأحمر - البحر المتوسط - المحيط الهندي

ج- الإقليم الذي يشرف على المحيط الأطلسي والبحر المتوسط: / ١ / درجة واحدة

ليبيا - وادي النيل - القرن الإفريقي - المغرب العربي

د- الإقليم الذي يحتل المرتبة الأولى عربياً بإنتاج الثروة الحيوانية: / ١ / درجة واحدة

- المغرب العربي - ليبيا - وادي النيل - بلاد الشام

٨- ضع خطأ تحت الإجابة الصحيحة:

أ) يصنف أحد هذه الأحياء من جذريات الأرجل:

الباراسيتوم - المتحول - الأورغانيا - جرثيم الكوليرا

ب) أحد هذه الأعراض لا يميز المصاب بالهيبضة (الكوليرا):

إقياء - تجفاف سريع - حمى - إسهال شديد

ج) تسمى العلاقة بين فطر وطحلب:

نقايش - رمية - تطفل - تعايش

د) يتشكل جنين النبات (الرشم) بعد إلقاح الزهرة من:

البيضة المتفحمة - البذرة - البذرة - الفؤة المغذية

٩- وجد في بيئة معينة الأحياء الآتية:

( أرانب - نباتات خضراء - صقور ) والمطلوب:

أ) رتب الأحياء السابقة على شكل سلسلة غذائية.

.....

ب) ما أهمية الشمس لاستمرار الحياة في السلسلة السابقة؟

.....

ج- حادثة ترقيم المناسبة بعد كلمة الشاعر في قولنا: (قال الشاعر أحمد مظهر) هي

١- ( ) ٢- ( ) ٣- ( ) ٤- ( )

د- الكتابة الصحيحة لكلمة (شيوخوخة) بالنسبة إلى المنظر، هي:

١- (شيوخوخة) ( ) ٢- (شيوخوخة) ( ) ٣- (شيوخوخة) ( ) ٤- (شيوخوخة) ( )

هـ- قمت برفقة عائلتك بزيارة إلى معرض الكتاب، فاشتريت مجموعة من الكتب المفيدة؛  
اكتب ستة أسطر تصف تلك الزيارة، مبيِّناً أهمية الكتب في حياتنا.

#### ٥- ضع خطأ تحت الإجابة الصحيحة :

أ- ثبت المسلمون القدس، الأهرامات لتكون؛

قبوراً لمملوكهم - مراكز حكم - مراكز ترفيهية - مراكز للترفيه الفكري

ب- تفوق الفرطانيون بصناعة السفن التي استمدوا أسسها من مدينة:

أوغاريت - صور - منف - ليد

ج- بنى القائد عبدة بن ذائع الفهري مدينة القنطرة عام ٥٠ هـ لتكون قاعدة:

ثقافية - اقتصادية - عسكرية - تجارية

د- أشادت الأحواض والقناطر في مصر في العصر الأموي من أجل:

- تطوير الملاحة النهرية - زيادة رقة الأرض الزراعية

- تحديد الميراث على الأرض - مراقبة فيضان نهر النيل

#### ٦- أ- ضع خطأ تحت الإجابة الصحيحة:

١- مشاهدة التلفاز لفترات طويلة تجعل الفرد:

محبا للمعرفة - منطيق - قادر على التعايش - بومعة منطية

٢- الإشراف على المسارح والآثار والمتاحف من مهام وزارة:

السياحة - الإعلام - التربية - الثقافة

ب- ضع إشارة صح (✓) إلى يمين العبارة الصحيحة وإشارة خطأ (X) إلى يمين العبارة الخاطئة

فيما يأتي:

• ( ) تقتصر مهام السلطة على ضمان أمن الدولة الداخلي.

• ( ) التفكير الناقد مدرب على التوار مع الآخرين.

١٢- ارسم ثلاثة خطوط ضمن دائرة بحيث تقسمها إلى سبعة أقسام.



١٤- ضع العدد المناسب مكان إشارة الاستفهام .



١٥- اختر الإجابة الصحيحة:

أولاً - الكلمة التي لا تنتمي إلى الكلمات الآتية :

(أ) قلقل (ب) دقيق (ج) شطة (د) كمون (هـ) كزبرة

ثانياً - للحقيبة دالماً :

(أ) طول و عرض (ب) جيب (ج) ملاين (د) يد (هـ) قلل

١٦- إذا كانت (س) تساوي (ع)، وكانت (ع) تساوي (من)، وكانت (من) أكبر من (ل).

فإن (ل):

(أ) تساوي (من)، (ب) تساوي (س)، (ج) أصغر من (س)، (د) أكبر من (ع)

١٧- اكتب أربع نتائج لازيداد المساحة الخضراء في بلدك.

١- .....

٢- .....

٣- .....

٤- .....

ضع خطاً تحت الإجابة الصحيحة في كل من التمارين الآتية :

١٨- معلم صف لديه (٤) كتب مختلفة، أراد أن يوزعها على أربعة تلاميذ متفوقين في صفه (كتب لكل تلميذ ١).

عدد طرائق توزيع هذه الكتب هو :

(أ) ٨ طرائق ، (ب) ١٢ طريقة ، (ج) ١٦ طريقة ، (د) ٢٤ طريقة

١٩- مكعب حجمه ٣٣٧٥ سم<sup>٣</sup> فإن طول حرفه :

(أ) ٤.٥ سم ، (ب) ٣.٥ سم ، (ج) ٢.٥ سم ، (د) ١.٥ سم

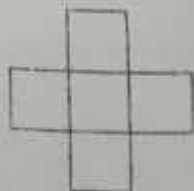
٢٠- تقدير العدد  $\sqrt{100007} + 34$  هو :

(أ) ٢ ، (ب) ١ ، (ج) صفر ، (د) ٣

٢١- في الشكل المرسوم جانباً خمسة مربعات

طريقة مجموع مساحاتها (٢٤٥) سم<sup>٢</sup> فيكون

طول ضلع كل مربع مسواً :



(أ) ٥ سم ، (ب) ٦ سم ، (ج) ٧ سم ، (د) ٨ سم



|                    |   |   |                  |
|--------------------|---|---|------------------|
| الاسم :<br>الرقم : | اختبار القبول في مدارس المتفوقين<br>للعام الدراسي ٢٠١٦ - ٢٠١٧<br>الصف السابع<br><br>المدة : ساعة ونصف<br>الدرجة : / ١٠٠ /<br><br><u>ملاحظات عامة:</u><br>١- الإجابة على ورقة الأسئلة نفسها.<br>٢- يتضمن الاختبار (٢٥) سؤالاً لكل سؤال أربع درجات. | الجمهورية العربية السورية<br>وزارة التربية<br>***** |                  |
|                    |   | العلامة   | المادة           |
|                    |   | رقماً   | كتابة            |
|                    |   |   | اللغة العربية    |
|                    |   |   | الاجتماعيات      |
|                    |   |   | العلوم العامة    |
|                    |   |   | القدرات العقلية  |
|                    |   |   | الرياضيات        |
|                    |   |   | اللغة الإنكليزية |
|                    |   |   | المجموع          |

قال الشاعر جرجس ناصيف مخاطباً الإنسان :

- ١- تعالوا يا بني الإنسان هيا  
٢- فلا حروب ولا قتل ونهب  
٣- لمؤك حرياً حراً على ما  
٤- على الأمراض لذهبها جميعاً  
٥- على الجوع المسبب للزلا
- تعالوا نقبل الحق الذي  
ولكن ألفاً تجلو العروا  
بني الإنسان يكومهم عروا  
على شدة فوخة حكي تهو  
على الأمسغان لجعلها حنينا

الأسئلة:

ضع إشارة ( ✓ ) بجانب الإجابة الصحيحة فيما يأتي :

- ١- أ- الفكرة الأتية: ( دعوة الشاعر البشر إلى الابتعاد عن الكراهية ) هي فكرة البيت:  
١- الأول. ( ) ٢- الثاني. ( ) ٣- الثالث. ( ) ٤- الرابع. ( )  
ب- المعنى المراد من قول الشاعر ( تجلو العيون ) الوارد في البيت الثاني هو:  
١- تظهر جمالها. ( ) ٢- تزيئها بالكحل. ( ) ٣- تكشف الحقيقة أمامها. ( ) ٤- تبين معالمها. ( )  
ج- المعنى المراد من كلمة ( تهون ) الواردة في البيت الرابع، هو:  
١- نزل. ( ) ٢- تسهل. ( ) ٣- تسمو. ( ) ٤- تتشط. ( )  
د- الضبط الصحيح لكلمة ( ألفة ) الواردة في البيت الثاني:  
١- ألفة ( ) ٢- ألفة ( ) ٣- ألفة ( ) ٤- ألفة ( )
- ٢- أ- في البيت الثالث:  
١- فعل واحد ( ) ٢- فعلان ( ) ٣- ثلاثة أفعال ( ) ٤- أربعة أفعال ( )  
ب- إعراب كلمة ( الإنسان ) الواردة في البيت الأول، هو:  
١- مضاف إليه. ( ) ٢- بدل. ( ) ٣- صفة. ( ) ٤- منادى. ( )  
ج- الكتابة الصحيحة للعدد ( ١٣ ) في الجملة الأتية: ( زربت ١٣ غرسة ) هي:  
١- ثلاث عشر ( ) ٢- ثلاثة عشر ( ) ٣- ثلاث عشرة ( ) ٤- ثلاثة عشرة ( )  
د- واحدٌ ممّا يأتي ليس من الأسماء الخمسة:  
١- أب ( ) ٢- ابن ( ) ٣- حم ( ) ٤- فو ( )
- أ- كتبت الألف ممدودة في نهاية كلمة ( زوايا )، لأنها:  
١- فوق ثلاثة ( ) ٢- فوق ثلاثة مسبوقة بياء ( ) ٣- منقلبة عن واو ( ) ٤- في نهاية الاسم ( )  
ب- الكتابة الصحيحة لتتوين النصب في كلمة ( سماء ) هي:  
١- سماء ( ) ٢- سمائاً ( ) ٣- سمأ ( ) ٤- سماءاً ( )

- ٢٢- رسم مستطيل لحيطة عامة مستطولة بمقاس  $\frac{1}{800}$  ، إذا كان طول الحديقة بركبة ماء دائرية الشكل وكان طول قطرها على المستطيل ١.٥ سم فإن طول قطر الركبة المظروى هو :
- (أ) ١٢ م (ب) ١٤ م (ج) ١٠ م (د) ٨ م
- ٢٣-  $2 \times 2 = 4$  فإن :
- (أ) ٦ م (ب) ٥ م (ج) ٧ م (د) ٨ م

## 24-A- Underline the correct words between brackets.

The first one is an example: (4 marks)

Example: It is good to walk (in, on) the park in the afternoon.

- 1- (When / Where) does a chameleon live? - It lives in warm habitats.
- 2- We (went / are going) on holiday next summer.
- 3- We ( don't have to / have to) go to school today. It's a holiday.
- 4- It's unhealthy to eat ( a lot of / enough ) biscuits.

## 25-B- Fill in the spaces with the correct words from the list . ( 4 marks)

The first one is an example:

had, then, house, building, moved, hard

Example: My restaurant is in a traditional —house—

- 1- It is a very beautiful ——— but it is very old.
- 2- When we lived there, the house ——— some problems.
- 3- It was falling down, so we ——— to a new house.
- 4- ——— a year ago, I had an idea — start a restaurant in the old house.

١٧- جزءاً كبيراً من الكرة الأرضية يعلني من التصحر.  
اكتب أربع أفكار لمواجهة التصحر.

- ١- .....  
٢- .....  
٣- .....  
٤- .....

ضع خطأ تحت الإجابة الصحيحة لكل من التمارين الآتية :

- ١٨- الكسر الذي يعبر عن النسبة ١٨% هو :  
(أ) ١,٨ ، (ب) ٨,١ ، (ج)  $\frac{9}{30}$  ، (د)  $\frac{9}{300}$
- ١٩- مجموع عددين كسريين يساوي  $\frac{1}{4}$  فإذا كان أحدهما هو  $\frac{1}{4}$  فالعدد الآخر هو :  
(أ)  $\frac{2}{3}$  ، (ب)  $\frac{1}{3}$  ، (ج)  $\frac{1}{4}$  ، (د)  $\frac{1}{5}$
- ٢٠- الشكل الرباعي الذي قطراه متعامدان ومتناصفان ومتساويان الطول :  
(أ) مستطيل ، (ب) معين ، (ج) مربع ، (د) شبه منحرف
- ٢١- العدد من = ٢١٠ يقبل القسمة على الأعداد:  
(أ) {٧, ٥, ٣, ٢} ، (ب) {٨, ٥, ٣} ، (ج) {١١, ٥, ٣} ، (د) {١١, ٧, ٥}
- ٢٢- قرأ طالب قصة عدد صفحاتها ١٥٠ صفحة بأربعة أيام وكان كل يوم يقرأ ضعف ما قرأه في اليوم السابق فيكون عدد الصفحات التي قرأها في اليوم الثاني هو :  
(أ) ١٠ ، (ب) ٢٠ ، (ج) ٣٠ ، (د) ٤٠
- ٢٣- إذا كان العدد ع =  $[(\frac{2}{3} - 2) \cdot 3]$  فإن قيمة ع هي :  
(أ) ١٤٤ ، (ب) ٢٥٦ ، (ج) ١٦ ، (د) ١٠٨

24 -A- Underline the correct words between brackets.

The first one is an example. ( 4 marks )

Example : Our school is much (big / bigger) than yours.

- 1- In 2006, the scientists (find / found) the body of an ancient camel.
- 2- Aunt Huda is sleeping. She (is / has) very tired.
- 3- I want to visit my friend. (Him / His) house is in the countryside.
- 4- Many people come to our village ( but / because ) it has a nice weather.

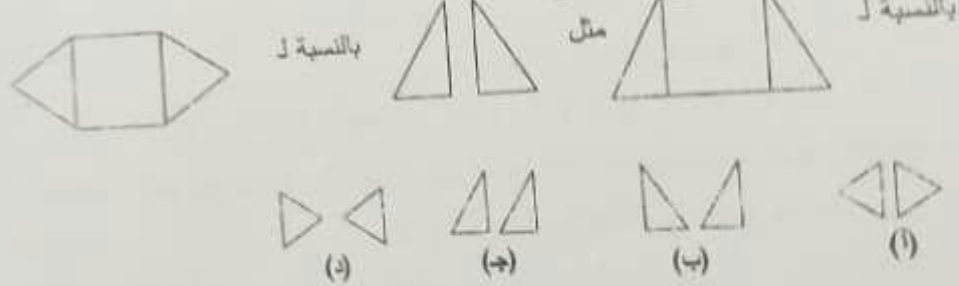
١٠- ضع علامة (✓) امام الإجابة الصحيحة لكل ما يأتي:

- (أ) في أثناء سقوط الجسم فإن طاقته الحركية: ☐ (أ) تقل وطاقته الكامنة تزداد ☐ (ب) تقل وطاقته الكامنة تقل ☐ (ج) تزداد وطاقته الكامنة تزداد ☐ (د) تزداد وطاقته الكامنة تقل ☐
- (٢) الاهتزازات التي ينتج عنها أصوات مسموعة هي التي تكون تواتراتها: ☐ (أ) أكبر من ٢٠٠٠٠ هرتز فقط ☐ (ب) محصورة بين ٢٠ - ٢٠٠٠٠ هرتز ☐ (ج) أصغر من ٢٠ هرتز فقط ☐ (د) أصغر من ٢٠ هرتز وأكبر من ٢٠٠٠٠ هرتز ☐
- (٣) يهتز جناحاً فرائشة ٦٠٠ مرة في الدقيقة فإن دور حركة جناحها مقدراً بالدائرية: ☐ (أ) ٠.٦ (ب) ١.٠ (ج) ٦٦.٠ (د) ٥٤.٠ ☐
- (٤) من المواد النقية: ☐ (أ) سكر (ب) ماء محلى بالسكر ☐ (ج) عصير الليمون ☐ (د) الحليب المحلى ☐

١١- أملأ الفراغات الآتية بالكلمات المناسبة:

أ- تتفاعل الأسس مع الحموض وتعطي ..... و .....  
ب- في المدفأة الكهربائية تتحول الطاقة ..... إلى طاقة .....

١٢- اختر الشكل المناسب مما يأتي:



١٣- ما العدد الذي إذا طرح من ١٢ يبقى  $\frac{1}{3}$  الـ ٢٤ ؟

- (أ) ٤ (ب) ٣ (ج) ٢ (د) ٥

١٤- كي تصبح مجموعة الأعداد الآتية : ١٤، ١١، ٨، ٧، ٥ سلسلة يوب حسب العدد

- (أ) ٨ (ب) ٥ (ج) ١١ (د) ٧

١٥- اختر الإجابة الصحيحة :

- أ - إن كلمة السماح لها تقريباً معنى كلمة:  
(أ) اللذبة (ب) الصفح (ج) السلامة (د) العزاي
- ب - تحتوي الفرقة الموسيقية على:  
(أ) دقات (ب) لاصين (ج) علامات (د) كلمات

١٦- صادفت عدد دخولي إلى الحديقة زجلاً وزوجته ومعهما ثلاثة أطفال وكل طفل منهم لديه ثلاث قطط ، إن عدد الأشخاص الذين دخلوا إلى الحديقة معاً هو:  
الجواب .....

- ٧- ضع خطأ تحت الإجابة الصحيحة : ١/ درجة واحدة  
 أ- تقع مدينة الإسكندرية في : ١/ درجة واحدة  
 - الجمهورية العربية السورية - الجمهورية الجزائرية - جمهورية مصر العربية - المملكة المغربية  
 ب- يصب نهر المجردة في : ١/ درجة واحدة

- المحيط الأطلسي - البحر المتوسط - المحيط الهندي - البحر الأحمر  
 ج- يقع الإقليم الصحراوي في الوطن العربي بين : ١/ درجة واحدة  
 - الإقليم المتوسطي والإقليم المداري - الإقليم الاستوائي والإقليم المداري - الإقليم شبه الاستوائي والإقليم شبه مداري  
 د- تحتل جمهورية موريتانيا المرتبة الأولى عربياً بإنتاج : ١/ درجة واحدة

- النقط - الحديد - المنغنيز - الفوسفات  
 ٨- ضع خطأ تحت الإجابة الصحيحة:

- ١- إدخال البيانات البقولية في الدورة الزراعية يُحسن من خواص التربة ويُطلق على ذلك اسم:  
 أ- السميد ب- إخصاب التربة ج- السماد الأخضر د- السماد الأحمر  
 ٢- تقوم الجراثيم بدور مهم في دورة الآزوت. واحدة مما يأتي لا تقوم بها الجراثيم في هذه الدورة:  
 (أ) تثبيت الآزوت الجوي على شكل مركبات لا عضوية. (ب) تحرير الآزوت من مركباته.  
 (ج) إعادة الآزوت إلى الهواء من جديد. (د) تحويل الآزوت إلى فحم الغرافيت.  
 ٣- واحدة من هذه النباتات لا وعائية:  
 أ- الحراريات ب- أمراخس ج- عاريات البذور د- مغلفات البذور  
 ٤- الجزء الذي لا ينقسم في النسيجة في زهرة مغلفات البذور في النباتات النبدية (زهرية):  
 أ- الميسم ب- النقم ج- المبيض د- الأنبوب الطلعي  
 ٥- في بيضة ما توجد الكائنات الحية الآتية:  
 (حارون - صر - ملقوف - أفعى - نبات أحضر - جراد - عصفور)  
 ٦- يكون من بعض هذه الأحياء مساندة غذائية يكون فيها العصفور مساهلاً ثانوياً.

- ٢- كثر شبكة غذائية من هذه الأحياء جميعها.

- ٣- ما المكونات بهر الغنية التي تتأثر بها الأحياء في الشبكة الغذائية السبعة.

- ٤- إذا مات العصفور الموجود في الشبكة الغذائية السابعة التي تم تشكيلها نتيجة تقضي مرض سيب، لما  
 أثر ذلك على الأحياء الأخرى في تلك الشبكة؟



- 25 -B- Fill in the spaces with the correct words from the list.  
The first one is an example. ( 4 marks )

there , flats , called , ~~north~~ , old

*Example: Aleppo is a city in the - - -north- - - of Syria.*

- 1- Part of Aleppo is very -----, but many people
- 2- live in modern ----- . There are a lot of things
- 3- to do -----, You can visit the castle
- 4- which is ----- the Citadel of Aleppo.

- ب- كتبت الهمزة على صورتها في كلمة (ونام)، لأنها متوسطة:
- ١- مفتوحة وما قبلها مكسور ( )
- ٢- مكسورة وما قبلها مكسور ( )
- ٣- مكسورة وما قبلها مفتوح ( )
- ٤- مفتوحة ( )
- ج- علامة الترقيم المناسبة بعد القول في الجملة الآتية: ( قال إني طالع مجتهد ) هي:
- ١- ( )
- ٢- ( )
- ٣- ( )
- ٤- ( )
- د- الكتابة الصحيحة لكلمة ( عرج ) بالنسبة إلى السطر، هي:

١- ( عرج ) ( )

٢- ( عرج ) ( )

٣- ( عرج ) ( )

٤- ( عرج ) ( )

٤- مع بدء العام الدراسي شاركت زملاؤك في المدرسة في حملة (انظف مدرستك):  
اكتب ستة أسطر تصف فيها ما قمتم به، مبيّناً أثر التعاون في تحقيق الهدف.

#### ٥- ضع خطأ تحت الإجابة الصحيحة:

- ١- كتب التلمزيون لغتهم بالخط:
- المسماري - الآرامي - الهيروغليفى - المسند
- ب- استخدم الشادوف لرفع المياه من النهر لري الأراضي الزراعية في حضارة:
- بلاد الشام - العراق القديم - مصر القديمة - اليمن
- ج- كتبت الدوليين في العراق قبل الإسلام باللغة:
- الفارسية - العربية - البابلية
- د- أسس الفينيقيون مراكز تجارية على الساحل الليبي، التي تطورت فيما بعد إلى مدن مزدهرة منها:
- صور - ليرة - قرطاج - الإسكندرية

#### ٦- أ- ضع خطأ تحت الإجابة الصحيحة:

##### ١- أركان الدولة:

الشعب والأرض - السلطة والإقليم - الشعب والسلطة - الشعب والسلطة والأرض

١- من الشخصيات العربية التي قاومت المستعمر الفرنسي في سورية:

سليمان باشا الأطرش - عبد القادر الجزائري - عز الدين القسام - سعد زغلول

ب- ضع إشارة صح (✓) إلى يمين العبارة الصحيحة و إشارة خطأ (X) إلى يمين العبارة الخاطئة فيما يأتي:

• (X) الموارد الطبيعية عامل التأثير الوحيد في الثقافة.

| الجمهورية العربية السورية<br>وزارة التربية<br>***** |         |        |
|---|---------|--------|
| المادة  | العلامة |        |
| اللغة العربية                                       | الأجزاء | الكلية |
| الاجتماعيات   | الصحیح  |        |
| العلوم العامة                                       |         |        |
| القدرات العقلية                                     |         |        |
| الرياضيات   |         |        |
| اللغة الإنكليزية                                    |         |        |
| المجموع   |         |        |

اختبار القبول في مدارس المتفوقين  
للعام الدراسي ٢٠١٧ - ٢٠١٨  
نصف الثاني

المدة : ساعة ونصف  
الدرجة : / ١٠٠ /

#### ملاحظات عامة

- ١- الإجابة على ورقة الأسئلة نفسها.
- ٢- يتضمن الاختبار (٢٥) سؤالاً لكل سؤال أربع درجات.

قالت الشاعرة هند هارون :

- ١- تذكّر يسيّ محبة أم
  - ٢- وعاشت لتضهر أيامها
  - ٣- تذكّر وعزّ على المنحني
  - ٤- وأحضر صغيرك عند الشرو
  - ٥- فتسعد روعي بلقىاسكما
- شرح المفردات: تصهر: تذيب وتغني . الأثر : الممثل

الأسئلة:

ضع إشارة (✓) بجانب الإجابة الصحيحة فيما يأتي :

- ١- أ- الفكرة الآتية: (دعوة الأم ابنتها للتفكير مودتها وتضحياتها) هي فكرة البيت:  
١- الأول. ( ) ٢- الثاني. ( ) ٣- الثالث. ( ) ٤- الرابع. (✓)
- ب- في قول الشاعرة (عزّ على المنحني) دعوة إلى:  
١- التفرّج في الجبل. ( ) ٢- زيارة قبرها. (✓) ٣- التمتع بجمال الطبيعة. ( ) ٤- زيارة بيتهم القديم. ( )
- ج- المعنى المراد من كلمة (فتيّاً) الواردة في البيت الرابع، هو:  
١- شجاع ( ) ٢- كريم ( ) ٣- صغير (✓) ٤- محوّر ( )
- د- الضبط الصحيح لكلمة (منياً) الواردة في البيت الثاني:  
١- منياً ( ) ٢- منياً ( ) ٣- منياً (✓) ٤- منياً ( )
- ٢- أ- في البيت الرابع:  
١- فعل واحد ( ) ٢- فعلان (✓) ٣- ثلاثة أفعال (✓) ٤- أربعة أفعال ( )
- ب- إعراب كلمة (محبة) الواردة في البيت الأول، هو:  
١- تمييز. ( ) ٢- نزل. ( ) ٣- مفعول به. (✓) ٤- حال. ( )
- ج- الكتابة الصحيحة للعدد (١٥) في الجملة الآتية: (كنيت ١٥ قصّة) هو:  
١- خمس عشر ( ) ٢- خمسة عشرة (✓) ٣- خمس عشرة ( ) ٤- خمسة عشر (✓)
- د- واحد مما يأتي ليس من الأفعال الخمسة للفعل (يضمهر):  
١- يضمهرون ( ) ٢- يضمهرون ( ) ٣- يضمهرون ( ) ٤- يضمهرون (✓)
- ٣- أ- كتبت الناء على صورتها في كلمة (عاشت) لأنها:  
١- ناء الرفع المتحركة ( ) ٢- ناء التأنيث المتحركة (✓) ٣- فصلت بفعل ثلاثي (✓) ٤- من أصل الكلمة ( )

١٦- رتب الأحرف الآتية : ( ا - ل - ل - ن - ي - ع - ب - د ) فالاسم الناتج هو اسم :  
 (أ) دولة ، (ب) مدينة ، (ج) نهر ، (د) طائر

١٧- لكل إنسان هدف يسعى لتحقيقه ، اكتب أربع أفكار تساعدك على تحقيق هدفك.

١- .....

٢- .....

٣- .....

٤- .....

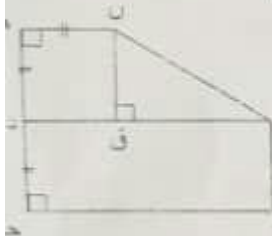
ضع خطأ تحت الإجابة الصحيحة لكل من التمارين الآتية :

١٨- عدد طبيعي مؤلف من ثلاث خانوات (منازل) يقبل القسمة على العددين ٢ و ٣ أحاده عدد أولي وعشراته أكبر من ٥ ومئاته أصغر من ٤ فإن هذا العدد هو :

(أ) ٣٩٣ ، (ب) ٣٨٤ ، (ج) ٢٧٢ ، (د) ١٦٢

١٩- قيمة من المحققة للمعادلة  $24 \times 2 \times 3 = 3 \times 2$  هي

(أ) ٩ ، (ب) ١١ ، (ج) ١٢ ، (د) ٢٤



٢٠- في الشكل المرسوم جانباً أ ب ج د مستطيل، د ه ن ق مربع، ب ج = ٨ سم

هـ ج = ٦ سم، د منتصف [هـ ج] فإن مساحة الشكل أن هـ ج ب تساوي :

(أ) ٣٢ سم<sup>٢</sup> ، (ب) ٤٢ سم<sup>٢</sup> ، (ج) ٨١ سم<sup>٢</sup> ، (د) ٤٠,٥ سم<sup>٢</sup>

٢١- خريطة مقياسها  $\frac{1}{5000}$  فإذا كانت المسافة على الخريطة بين المدرسة والمركز الثقافي تساوي ١٦ سم فإن المسافة الحقيقية بينهما بالأمتار هي :

(أ) ٨٠٠٠ م ، (ب) ٨٠ م ، (ج) ٨٠٠ م ، (د) ١٦٠٠ م

٢٢- يحتوي خزان ماء على ٤٠٠ لتر من الماء ، استهلك ٣٠٪ منه فإن كمية الماء المتبقية في الخزان هي :

(أ) ١٢٠ ليتر ، (ب) ٢٨٠ ليتر ، (ج) ١٨٠ ليتر ، (د) ١٢ ليتر

٢٣- قيمة المقدار  $\left[ \frac{7}{3} - \left( \frac{1}{3} + 2 \right) - \frac{7}{3} \right]$  تساوي

(أ)  $\frac{8}{3}$  ، (ب)  $\frac{8}{27}$  ، (ج)  $\frac{2}{3}$  ، (د)  $\frac{2}{9}$

24 -A- Underline the correct words between brackets.

The first one is an example.

( 4 marks )

Example : Salah is going to (ride / rides) a bike on Monday morning.

1- (Where / When) do your grandparents live? They live in the countryside.

2- Nadia (leaves / left) so quickly when she read the message.

3- Whose are these bikes? They are (our / ours).

4- Ruba didn't have time to (write / right) the email.

١٠- ضع علامة (✓) أمام الإجابة الصحيحة لكل من يأتي:

(١) إحدى المواد الآتية تُعد جسماً بسيطاً:

(أ) ملح الطعام ☒

(ب) ماء البحر ☐

(ج) غاز الهيدروجين ☐

(د) غاز ثنائي أكسيد الكبريت ☐

(٢٧) يُفصل مسحوق النحاس عن الماء في خليط لهما باستخدام:

(أ) المغناطيس ☐

(ب) محلول عباد الشمس ☐

(ج) ورقة الترشيح ☐

(د) قمع الفصل ☐

(٣) الزمن الذي يستغرقه الجسم المهتز لإتجاز دورة واحدة يسمى:

(أ) التواتر ☐

(ب) الدور ☐

(ج) الدبسل ☐

(د) الهرتز ☐

(٤) إذا كانت سرعة انتشار الصوت في الهواء ٣٤٠ م/ثا، فتكون المسافة التي يقطعها الصوت خلال نصف دقيقة مساوية:

(أ) ٣٤٠ م ☒

(ب) ٦٨٠ م ☐

(ج) ١٠٢٠٠ م ☐

(د) ١٧٠ م ☐

١١- املأ الفراغات الآتية بالكلمات المناسبة:

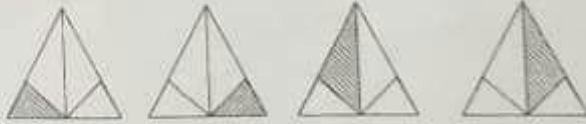
أ- الطاقة التي لا تلوث البيئة سواء عند استخراجها أو استعمالها تسمى طاقة .....

ب- ينتشر الصوت في الهواء ولكنه لا ينتشر في ..... .

ج- الجسم الذي يتحرك شاقولياً نحو الأعلى فإن طاقته الكامنة .....

د- عند غمس ورقة عباد الشمس بنفسجية اللون في محلول حمض الكبريت يتقلب لونها إلى اللون .....

١٢- اختر الشكل المناسب لإكمال سلسلة الأشكال في الفراغ المبين فيما يأتي:



١٣- املأ الفراغ لتحصل على نمط:

..... ٩٦ ، ٤٨ ، ٢٤ ، ١٢ ، ٦ ، ٣ ، ١

١٤- ضع العدد الصحيح مكان علامة الاستفهام ؟

|    |
|----|
| ١٥ |
| ٢  |

|    |
|----|
| ٧  |
| ١٥ |

|    |
|----|
| ٩  |
| ١٩ |

|    |
|----|
| ١٢ |
| ٢٥ |

الجواب: .....

١٥- اختر الإجابة المسبحة:

(١) - معنى كلمة استجار:

(أ) صار جاراً لأحد (ب) ابتعد عن مكانه (ج) طلب الحماية (د) صرخ بصوت عالي

(٢) إن كلمة يقلد بالنسبة إلى كلمة ينسخ مثل كلمة يخترع بالنسبة لكلمة :

(أ) يدرس (ب) آلة (ج) اختراع (د) مبتكر

الصف السابع



٧- ضع خطاً تحت الإجابة الصحيحة في أ و ب:

أ- يتحكم إقليم المغرب العربي بمرمى مائى مهم هو:

- ب- قناة السويس - مصب نهر النيل - مضيق باب المندب - مضيق باب السلام
- ج- عطار - رجل - أورانوس - الأرض

/ درجتان /

د- مضيق - الرباط - بغداد - القاهرة

٨- ضع إشارة (✓) إلى يمين العبارة الصحيحة وإشارة (x) إلى يمين العبارة المغلوطة فيما يأتى: / درجة واحدة /

أ- أعلى قمة في شبه الجزيرة العربية قمة طويق. أعلى قمة هي مكة إلى شمسها اليمن

ب- وضع خطاً تحت الإجابة الصحيحة:

١- الغاز المنطلق في عملية التركيب العضوي:

- أ- الأكسجين ب- النيتروجين ج- ثاني أكسيد الكربون د- ثاني أكسيد الكبريت

٢- يقوم حمض كلور الماء في عصارة المعدة بمقاومة جميع العوامل المعرصة وهو نوع من المناعة:

- أ- البوعية ب- المنكبة ج- الطبيعية د- التي يصنعها الجسم

٣- تسمى الحادثة التي يقع فيها ظل القمر على بقعة من الأرض فيحجب غرض الشمس:

- أ- الخسوف الكلي ب- الخسوف الكلي ج- الخسوف الجزئي د- الخسوف الجزئي

٤- لديك السلسلة الغذائية الآتية: النبات الأخضر - الحمار - الضفدع - هالامس

- أ- منتج ب- مستهلك أولي ج- مستهلك ثانوي د- مفترق

٩- لديك الجدول الآتي الذي يبين دورة زراعة القمح الثانية:

| قسم الأرض المزروعة    | السنة الأولى | السنة الثانية |
|-----------------------|--------------|---------------|
| نصف الأرض الأول يزرع  | قمحاً        | فولاً         |
| نصف الأرض الثاني يزرع | فولاً        | قمحاً         |

أ- ما المحصول الرئيسي في هذه الدورة؟ ولماذا يقوم الفلاح بزراعة الفول بعد زراعة القمح عادة؟

ب- لا تتم زراعة النباتات في التربة الرملية وذلك لسببين، ما هما؟ وكيف يتم استصلاح التربة الرملية؟

ج- يضيف الفلاح الأسمدة إلى التربة الزراعية لرفع قدرتها الإنتاجية، ما نوع الأسمدة؟

د- من الطرائق الحديثة في الزراعة عدم استخدام التربة وتسمى الزراعة المائية، كيف يتم ذلك؟

- 25 -B- Fill in the spaces with the correct words from the list.  
The first one is an example. ( 4 marks )

pick , calmly , arrive , presents , unhealthy , rubbish

*Example: Many people from Damascus visit Souk Al Hamedieh to*

*buy - - -presents- - -for the family.*

- 1- Too much ..... is bad for the Earth.
- 2- When people ..... at a hotel, they come to the information desk on the ground floor.
- 3- You can play out with a ..... which is very small.
- 4- Biscuits and sweets often have a lot of sugar and they can be .....